

國立彰化高級中學 111 學年下學期 高二自然組地理科 期中考試題卷

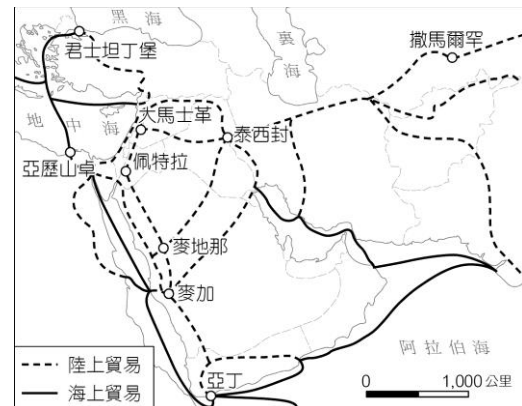
範圍：南一版 東南亞 西亞 澳紐 歐洲

一、 單選題 40% (每題 2 分，答錯不倒扣)

(C) 1. 下列有關華人在東南亞地區的相關敘述，正確的有幾項？(甲)多數從閩粵一帶遷徙至東南亞；(乙)掌控當地政治與經濟大權；(丙)聚居地多在經濟發達的沿海地區；(丁)與熱帶栽培業發展有關。

(A)甲乙丙 (B)甲乙丁 (C)甲丙丁 (D)乙丙丁

(B) 2. 西亞和北非處於連結歐、亞、非往來的交會路口，5,000 年前，即有貿易商路的發展。附圖為西元 570 年的阿拉伯貿易路線圖，若有一艘商船自波斯灣運載石油，沿著海上貿易的路線行至君士坦丁堡，則依序會經過下列哪些地方？



(A)曼達布海峽—紅海—荷莫茲海峽—阿拉伯海—蘇伊士運河—地中海 (B)荷莫茲海峽—阿拉伯海—曼達布海峽—紅海—蘇伊士運河—地中海 (C)曼達布海峽—阿拉伯海—蘇伊士運河—紅海—荷莫茲海峽—地中海 (D)荷莫茲海峽—阿拉伯海—紅海—蘇伊士運河—曼達布海峽—地中海

(B) 3. 《法新社》報導指出，澳洲總理莫里森於 2021 年 12 月 31 日宣布，國歌「前進澳洲美之國」(Advance Australia Fair) 中第 2 句歌詞「For we are young and free(因我們年輕且自由)」改為「For we are one and free(因我們一體且自由)」。澳洲總理此舉用意反映下列何項論述？

(A)鼓勵海外移工加入澳洲 (B)尊重原住民族的歷史文化 (C)拉近毛利人與白人關係 (D)強化澳洲與周邊國家貿易

(A) 4. 下列關於澳紐多元文化的描述，何者正確？

(A)毛利語已列入官方語言，並且納入正式教育制度 (B)澳洲原住民族著名的文化有繪身藝術、刺青與戰舞 (C)19 世紀初期，澳洲因鐵路建設而引入華人與太平洋島民 (D)澳洲政府推行白澳政策，導致原住民家庭分離與文化消失

(C) 5. 下列關於澳洲族群的相關敘述，何者正確？

(A)1970 年代初，為積極招攬美洲人才及市場，乃廢止白澳政策 (B)澳洲原住民與紐西蘭毛利人皆為南島語族 (C)移民是澳洲人口的特色，有高比例的人口出生於海外 (D)白澳政策影響使得當今澳洲歐裔白人的比例仍達 95% 以上

(D) 6. 紐西蘭的原住民族源自於哪裡？

(A)美拉尼西亞 (B)新幾內亞 (C)密克羅尼西亞 (D)玻里尼西亞

(D) 7. 除少數國家外，過去幾十年來西亞水資源短缺問題日益嚴重。下列哪些因素是造成此問題日益嚴重的最主要原因？(甲)降水變率增大；(乙)戰亂衝突加劇；(丙)製造業用水量大增；(丁)生活方式現代化；(戊)人口快速成長。

(A)甲乙 (B)乙丁 (C)丙戊 (D)丁戊

(B) 8. 根據 2021 年 5 月 11 日的報導，加薩走廊局勢惡化，以色列和巴勒斯坦人，在東耶路撒冷地區衝突不斷。巴勒斯坦的激進組織哈馬斯，以火箭朝向以巴邊境和耶路撒冷攻擊，以色列也對加薩發動空襲，造成有 20 人死亡。造成以巴至今仍衝突不斷的主要原因有哪些？(甲)民族文化；(乙)水權紛爭；(丙)石油利益；(丁)領土爭奪。

(A)甲乙丙 (B)甲乙丁 (C)甲丙丁 (D)乙丙丁

(D) 9. 1983 年土耳其在其境內實施安那托利亞計畫，企圖在兩河流域上游修築水庫及發電廠，以供應土耳其產業的發展需求。此計畫完成後，將導致兩河下游水量減少 90%。此計畫中最受影響者是下列哪兩個國家？

(A)伊朗、伊拉克 (B)伊拉克、巴勒斯坦 (C)科威特、沙烏地阿拉伯 (D)敘利亞、伊拉克

(A) 10. 2021 年 11 月中旬，伊朗南部港口城市阿巴斯港，先後間隔 90 秒發生芮氏規模 6.4 與 6.3 的強震，伊朗地震學中心表示，兩起地震深度 15 公里，震央位於伊朗在波斯灣最大的葛西姆島。下列哪一個國家也處於聚合板塊的邊界上，容易發生地震災害？

(A)土耳其 (B)約旦 (C)利比亞 (D)葉門

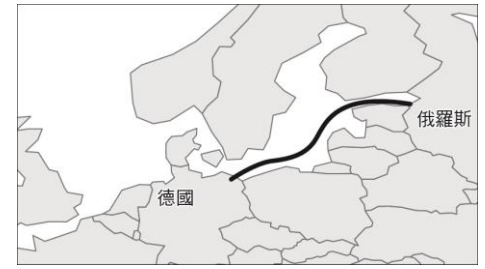
(B) 11. 下列哪一個高原屬於古老結晶地台，地表起伏較小？

(A)伊朗高原 (B)阿拉伯高原 (C)阿富汗高原 (D)安納托利亞高原

(A) 12. 西亞——北非人口集中在綠洲處，為了要在狹小土地上供養眾多的人口，居民以何種方式增加農產品單位面積的產量？

(A)作物高低成層栽培 (B)大量施肥 (C)加強施肥與灌溉 (D)乾耕與輪作

- (C))13. 橡膠源自於美洲，但是東南亞是全球最適合發展熱帶栽培業（橡膠）的地區。這是因為相較他地，該地區具備哪兩個發展熱帶栽培業重要的區位條件？
 (A)技術、資金 (B) 交通、資金 (C) 勞力、糧食 (D)市場、勞力
- (B))14. 東南亞地區深受到歐洲國家殖民影響，下列東南亞哪項區域特徵與「殖民地式經濟」最相關？
 (A)人種差異大 (B) 多港埠型都市 (C)文化呈過渡色彩 (D) 稻作文化
- (A))15. 19世紀到20世紀初的100年間，從英國本寧山到德國中部台地形成了歐洲最重要的重工業生產地帶，工業革命的擴散，主要為由西向東發展，較少往南發展的主因為何？
 (A)礦藏分布 (B)人口分布多寡 (C)歷史發展長短 (D)有無天然良港
- (C))16. 右圖為德國某能源建設—北溪2號的路線。美國在2019年年底宣布要對所有參與此項建設的國家加以經濟制裁，聲稱是為了維持歐洲的能源安全，根據此一路線研判運輸的應為哪一能源？



- (A)煤 (B)石油 (C)天然氣 (D)頁岩氣
- (A))17. 小美已經取得歐洲的申根簽證了，請問：她可以進行下列哪些旅遊活動？(甲)在荷蘭吃現場製作的乳酪；(乙)到瑞典參觀諾貝爾頒獎典禮的會場；(丙)前往冰島跳進溫暖的溫泉裡；(丁)在蘇格蘭和穿裙子的衛兵拍照；(戊)到羅馬尼亞在吸血鬼的故鄉探險。
 (A)甲乙丙 (B)乙丙丁 (C)丙丁戊 (D)甲丙丁
- (C))18. 下列哪些為歐盟成立的背景？(甲)二戰後美蘇兩大強權影響力增；(乙)東亞國家經濟的快速崛起；(丙)殖民地發展的工業需求；(丁)國家規模小，聚合以達聚集經濟；(戊)二戰為主要戰場，經濟百廢待舉。
 (A)甲乙丙 (B)乙丙戊 (C)甲乙戊 (D)丙丁戊
- (C))19. 一位同學想在暑假期間去海外遊學，他希望能利用這機會學習英語，認識當地的原住民文化，並體驗獨特的冰河地形和活火山景觀。下列哪個地區是該同學的最佳選擇？
 (A)夏威夷 (B)菲律賓 (C)紐西蘭 (D)愛爾蘭
- (D))20. 附表是某國2013年的產業結構。該國最可能具有下列哪項區域特性？

產業別	就業比例	主要產業
農業	0.3%	漁業
工業	50.6%	石化、造船修理、海水淡化、水泥、建材、食品加工
服務業	49.1%	貿易（出口商品：合成油品、化肥；進口商品：食品、建材、汽車與零件、服裝）

- (A)瀕臨波羅的海，軍事戰略地位重要 (B)秘魯洋流流經，聖嬰現象影響漁業 (C)屬撒赫爾地區，土壤鹽化問題嚴重 (D)地處波斯灣旁，海洋運輸系統發達

二、題組 60% (每題 2 分，答錯不倒扣)

◎東南亞最大的淡水湖為柬埔寨的洞里薩湖，洞里薩湖意為「巨大的淡水湖」或純粹「大湖」，其湖泊面積變化極大，面積最小時只有 2,000 平方公里，到了特殊季節面積又可擴大成 16,000 平方公里；但 2019 年報導指出，匯入這座湖泊的關鍵水流，卻已連續 2 年遲到，將嚴重擾亂漁業，並威脅到超過百萬人的糧食供應情形；此外原本洞里薩湖和周圍的洪氾區，在 1997 年被指定為聯合國教科文組織生物圈保護區 (Unesco biosphere reserve)，但上游水壩阻擋了約 160 種需要長距離遷徙的魚類，也造成數百種魚類生存浩劫。請根據資料回答下列問題：

- (B))21. 上文所述湖泊面積變化現象與以下當地哪項氣候特徵最有關係？ (A)對流旺盛 (B) 降水集中 (C) 地形阻擋降水 (D)四季分明
- (A))22. 當地的氣候為下列何者？ (A)熱帶季風氣候 (B)熱帶雨林氣候 (C)熱帶莽原氣候 (D)夏雨型暖溫帶氣候
- (B))23. 題幹中所提及的關鍵水流為哪條河川？ (A)紅河 (B)湄公河 (C)昭披耶河 (D)薩爾溫江
- (C))24. 何國在上游興建水壩造成洞里薩湖區的生態危機發生？ (A)泰國 (B)緬甸 (C)中國 (D)印度

◎阿宏於 2018 年的寒假，在牛車水體驗華人的新年氣氛，以及參觀佛牙寺與印度廟，散步至 Maxwell 熟食中心已是中午，炎熱的天氣來杯薏米水解渴最好，對面的天天海南雞飯依舊排滿人，無論當地人或是觀光客都必來光顧。稍作歇息，搭地鐵來到萊佛士坊，沿著境內主要河流，一邊欣賞著當時殖民母國的建築，也一邊往河口移動，要看那隻一直噴水的獅子。請問：

- (A))25. 阿宏出遊的國家有什麼特色？ (A)地處麻六甲海峽重要出入口 (B)伊斯蘭教為重要的國教 (C)屬於亞洲四小虎之一 (D)曾被法國殖民的港口。

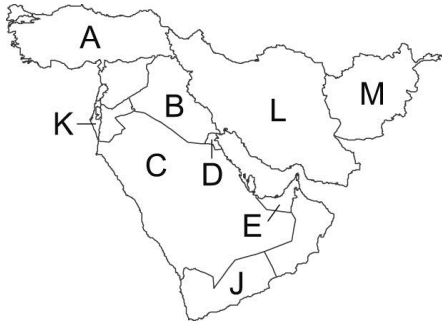
(B) 26. 下列哪一個都市所在地的氣候類型與該國相同？ (A)河內 (B)吉隆坡 (C)馬尼拉 (D)胡志明市

◎2019年3月4日，澳洲與「甲國」已經正式簽署自由貿易協定，澳洲將取消所有來自「甲國」進口商品的關稅，而澳洲運送至「甲國」的商品94%的關稅也將逐步取消。這項協議受到澳洲農民的歡迎，他們希望能將更多的農產品運往東南亞最大的經濟體。協議中不僅涵蓋了商品貨物的自由貿易，其中也還包括開放澳洲對當地大學、飯店、發電廠和採礦公司的投資。請問：

(A) 27. 根據上文所述，文中所指的「甲國」應該是哪一個國家？ (A)印尼 (B)泰國 (C)菲律賓 (D)馬來西亞

(C) 28. 根據上文所述，受益最大的出口產品應有哪些？(甲)鐵礦；(乙)小麥；(丙)奇異果；(丁)葡萄酒；(戊)豬肉製品。
(A)甲丙 (B)乙丙 (C)乙丁 (D)丁戊

◎圖(一)及圖(二)分別為西亞地區的行政分區簡圖及衛星影像圖，請問：



(B) 29. 圖(一)中哪一個國家因被懷疑有大規模化學武器而被美國抓拿其總統並送往荷蘭海牙判刑？ (A) A (B) B (C) L (D) J

(C) 30. 圖(一)中哪個國家閱讀舊約聖經，信仰耶和華一神，過去政治上較親美英，與其他阿拉伯國家不同，但在西亞仍有相當的影響力？ (A) A (B) B (C) K (D) C

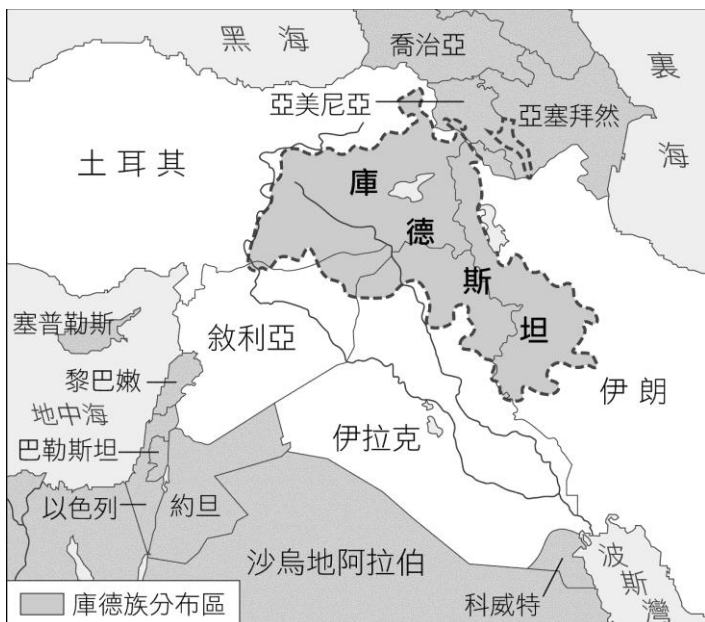
(D) 31. 圖(一)中哪個國家是擁有穆斯林的兩大聖地，麥加(穆聖出生)與麥地那(穆聖死亡)？ (A) A (B) B (C) K (D) C。

◎沙烏地阿拉伯王儲沙爾曼王子受各界矚目，他公開表示要帶領沙國重返溫和的宗教文化，並且大力推動「願景 2030」計畫，希望沙國回到對宗教開放的溫和宗教文化，並且根除極端思想的推動者。同時修法讓女性開車上路，女性可以從 2018 年 6 月開始合法取得駕照開車上路。請問：

(B) 32. 沙爾曼王子最為外界震撼的措施，便是大規模打擊國內貪腐勢力，甚至連中東股王之稱的阿瓦里德親王都被逮捕，造成歐美國家股匯市明顯衝擊。沙烏地阿拉伯知所以能大量向外投資，並提供人民優渥社會福利的因素為何？ (A) 觀光旅遊發展 (B) 石油開採貿易 (C) 駱駝商旅經商 (D) 西亞轉口貿易中心

(C) 33. 沙爾曼王子希望透過「願景 2030」計畫，解決目前高度依賴上述產業的窘境，近年沙烏地阿拉伯之所以積極產業轉型的背景為何？ (A) 以色列耶路撒冷取代原有沙國麥加觀光收入 (B) 肥沃月灣沙漠化嚴重影響沙國糧食生產 (C) 國際油價低迷，影響沙國經濟穩定 (D) 受國際制裁，使社會經濟出現危機

◎附圖為部分西亞國界簡圖，斜線區域為庫德族 (Kurds) 的分布區，該民族曾於 1988 年遭到伊拉克的化學武器攻擊，導致 10 萬庫德族人被迫進入土耳其避難，另 1 萬多人逃入伊朗。請問：



(D) 34. 該民族主要的近年最重要的訴求為何？ (A) 生活空間的擴張 (B) 政治民主的落實 (C) 種族歧視的消弭 (D) 追求能獨立建國

(C) 35. 承上題，依圖中分布圖判斷，下列國家中沒有庫德族分布的國家是 (A) 伊拉克 (B) 土耳其 (C) 阿富汗 (D)

敘利亞

◎因為長期補貼較不環保的集約化農業，歐盟實施長達 60 年的「共同農業政策」，在 2021 年 6 月 25 日經歐洲議會、歐盟委員會和 27 個成員國長達兩年多的研議後終於拍板定案，未來 5 年共同農業政策將改採行與生產量脫鉤之補貼制度，以尊重環境保護、食品安全及動植物衛生標準為依據，讓農民更有競爭力、且能自行決定生產具市場導向之產品，並積極強調農業環境保護、鄉村發展政策等。改革後的農業政策核心為「綠色生態制度」，但若想領取此補助的農民須做到以下行為：「承諾採取行動以保護生物多樣性和自然遺產，並且必須讓至少 4% 的耕地休耕，以達到永續經營。」此項鼓勵永續農耕的補貼將占直接支付給歐盟農民補貼的 1/4。此外，還將首次加入接受補貼的「社會條件」，補貼受益人將受到監督，欲改善以往補貼對象不透明問題。請回答下列問題：

(C) 36. 歐盟過去推行「共同農業政策」的目的為下列哪幾項？(甲)解決小麥生產過剩問題；(乙)透過補貼政策保障農民收入；(丙)降低對進口糧食的依賴；(丁)減少與非歐盟國家的貿易摩擦。(A)甲乙 (B)甲丙 (C)乙丙 (D)乙丁

(B) 37. 根據上文所述，歐盟進行農業改革除了提高農業競爭力，也重視環境永續性，其反映出歐洲農業發展可能面臨何種問題？(A)糧食生產量下滑 (B)生態環境破壞嚴重 (C)氣候異常影響農業生產 (D)農產品價格逐漸下滑

◎《紙房子》為一部西班牙搶劫犯罪影集，內容刺激緊湊使其成為 Netflix 上最多人觀看的非英語影集和有史以來最多人觀看的影集之一，同時也在南歐和拉丁世界產生巨大迴響。請問：

(D) 38. 此影集從一月開始拍攝，歷時七個月完成，其主要場景皆在西班牙首都馬德里拍攝，請問在拍攝過程中可能會遇到下列何種狀況？(A)在七月時受到溫帶氣旋影響而中斷拍攝 (B)在六月時因西風而帶來的地形雨使得拍攝受阻 (C)英國攝影師可透過申根協定入境西班牙 (D)拍攝郊外場景時可看到整片黃沙，夾雜著綠叢

(B) 39. 此影集還有一特色就是片中主角皆以各國城市當代號，其中瑞典不用歐元用克朗，包含里斯本、柏林、斯德哥爾摩、赫爾辛基、馬賽，若有影迷想要趁到歐洲旅行時走訪這些城市，請問他應該準備幾種貨幣？(A)1 種 (B)2 種 (C)3 種 (D)4 種

(B) 40. 以此影集背景設定在 2008 年世界金融危機之後，當時使許多歐洲國家陷入「歐債危機」，骨牌效應般向歐洲襲來，請問：此現象與下列哪個因素最相關？(A)申根區之間的人員自由流動頻繁 (B)使用共同貨幣而使得金融風險提高 (C)邊界合作計畫使得西歐、南歐一同發展 (D)藉由提高關稅保護歐盟境內產業

◎附圖為紐西蘭的國徽，國徽上的設計與紐西蘭的自然、人文歷史發展都有極大意義，盾面上有五組圖案：四顆五角星代表南十字星座，象徵紐西蘭；麥捆代表農業；羊代表該國發達的畜牧業；交叉的斧頭象徵該國的工業和礦業；三隻揚帆的船表示該國海上貿易的重要性。請回答以下問題：



(C) 41. 下列關於國徽標誌的相關敘述，何者為非？(A)女性為英國移民 (B)男性為毛利人 (C)皇冠象徵兩人共同治理紐西蘭 (D)腳下的植物維紐西蘭特有種

(C) 42. 紐西蘭與澳洲的貿易對象過去以歐洲為主，但後期加入哪個國際組織後，鄰近的亞洲國家成為其主要市場？(A)世界貿易組織 (WTO) (B)東南亞國協 (ASEAN) (C)亞太經濟合作會議 (APEC) (D)石油輸出國家組織 (OPEC)

◎附圖為印尼國徽及其建國五原則。請問：



(A) 43. 印尼境內有數百個不同民族及語言，與下列哪些自然環境特徵有關？(甲)島嶼眾多；(乙)雨林遍布；(丙)縱谷延伸；(丁)礦產豐富。 (A)甲乙 (B)甲丙 (C)乙丙 (D)丙丁

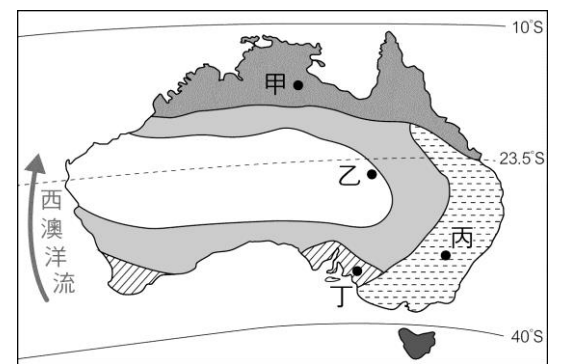
(D) 44. 印尼建國五原則中，下列何者象徵了伊斯蘭教信仰？ (A)鍊條 (B)榕樹 (C)牛頭 (D)五角星

◎右圖為某國的氣候分區圖。請問：

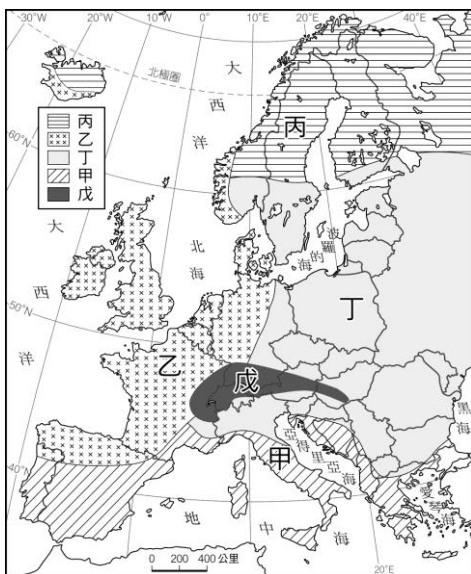
(B) 45. 圖中哪個地點最可能位於原為古海盆的低地區，早期多利用自噴井取水，發展畜牧業，近年來逐漸鑿取深層地下水，卻因鹽分過高，已危及當地的畜牧業發展？ (A)甲 (B)乙 (C)丙 (D)丁

(D) 46. 流經該國西部外海的洋流，其水溫性質與下列哪種洋流最為相似？

(A)黑潮 (B)北大西洋洋流 (C)東澳洋流 (D)秘魯洋流



◎附圖為歐洲的氣候分布圖。請問：



(A) 47. 「七月到達此地，白天溫度上升至 30°C 以上，很多商店都打烊關門，直到近下午三點左右帶有涼意才又開門營業，傘通常不是拿來防雨，而是以遮陽為主。」以上敘述應是圖中哪一區的氣候特徵？ (A)甲 (B)乙 (C)丙 (D)丁

(D) 48. 甲、乙、丙、丁中哪一個氣候區的年溫差最大？ (A)甲 (B)乙 (C)丙 (D)丁

◎歐盟內部的區域發展並不均衡，最富裕的前十國人均 GDP 約是最落後十國的三倍之多。但落後地區卻積極以較高的創新能力 (innovation) 急起直追。附圖是歐盟不同創新能力的地區分布圖。請問：

(A) 49. 創新能力最佳且具領導發展之功能的地區，是圖中哪個區塊？ (A)甲 (B)乙 (C)丙 (D)丁

(C) 50. 歐盟為求區域發展均衡與穩定，圖中哪個區塊，最需要區域發展基金的挹注？ (A)甲 (B)乙 (C)丙 (D)丁

