

北北基高級中等學校
114 學年度分科測驗聯合模擬考試

公民與社會考科

請於考試開始鈴響起，在答題卷簽名欄位以正楷簽全名

—作答注意事項—

考試範圍：第一～三冊、探究與實作、選修 I、選修 II

考試時間：80 分鐘

作答方式：

- 選擇題用 2B 鉛筆在「答題卷」上作答；更正時以橡皮擦擦拭，切勿使用修正帶（液）。
- 除題目另有規定外，非選擇題用筆尖較粗之黑色墨水的筆在「答題卷」上作答；更正時，可以使用修正帶（液）。
- 考生須依上述規定劃記或作答，若未依規定而導致答案難以辨識或評閱時，恐將影響成績。
- 答題卷每人一張，不得要求增補。

選擇題計分方式：

- 單選題：每題有 n 個選項，其中只有一個是正確或最適當的選項。各題答對者，得該題的分數；答錯、未作答或劃記多於一個選項者，該題以零分計算。
- 多選題：每題有 n 個選項，其中至少有一個是正確的選項。各題之選項獨立判定，所有選項均答對者，得該題全部的分數；答錯 k 個選項者，得該題 $\frac{n-2k}{n}$ 的分數；但得分低於零分或所有選項均未作答者，該題以零分計算。

祝考試順利



版權所有 · 翻印必究

第壹部分、選擇題（占 66 分）

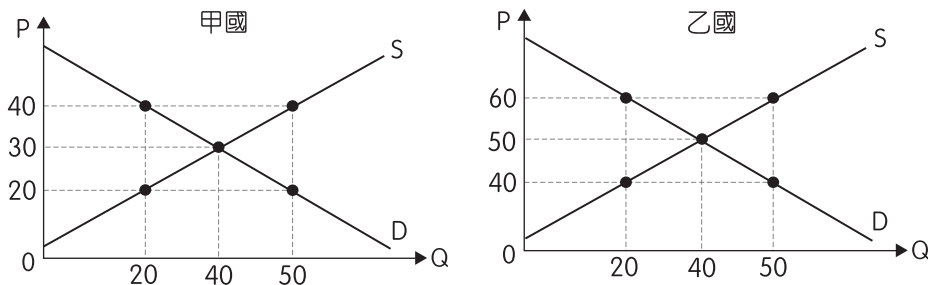
一、單選題（占 58 分）

說明：第 1. 題至第 29. 題，每題 2 分。

1. 某國網路流傳一份母親也是醫生的高中生申請大學資料，在其申請醫學院的多元表現資料中，羅列了諸如：「英國暑期交流營隊表現優良」、「某醫學長照中心志工 200 小時」、「高中校內英語比賽冠軍」。關於前述資料所反映的社會現象，若運用社會階層相關理論分析，下列哪一個解釋最具說服力？
(A)文化資本與個人的家庭背景有關，學校教育並無影響力
(B)該生參加校內英語比賽，在申請醫學院更具有社會資本
(C)從衝突論來看，該生透過各階段的努力，最後達成目標
(D)該生媽媽是醫生的家庭背景可能有助於其文化資本累積
2. 立法院於 2025 年三讀通過《國家運動產業發展中心設置條例》，該法因朝野立委意見一致，審議過程快速順利。根據該條例，「國家運動產業發展中心」為法人，業務聚焦運動產業調查、人才培育、行銷輔導等 9 大領域，監督機關為行政院「運動部」，並於經費與人事決定上具獨立運作權，其經費來源為運動彩券發行盈餘或其他政府預算的核撥、國內外公私立機構、團體及個人之捐贈等。請依上文判斷關於「國家運動產業發展中心」的說明，何者為最適切的分析？
(A)依法該中心須受主管機關監督，故為行政院運動部下轄的政府機關
(B)運動部透過成立該中心將其業務委外，利用市場力量降低行政成本
(C)該中心因經費來源可以是民間團體捐贈，所以性質上應屬於私法人
(D)該中心為法律上的權利主體，可與民間企業簽訂契約進而推動業務
3. 2025 年 5 月，美國總統川普在網路發文，稱「美國電影業正在迅速消亡」，形容外國製作電影「就像『從嬰兒手裡搶糖果』一樣」。為了讓美國再次擁有真正「美國製造」的電影，川普表示將對所有在美國境外製作的電影課徵 100 % 關稅。若本關稅政策確定實施，對某一間美國電影製作公司而言，以下何者最可能發生？
(A)電影在美國本土製作的成本下降，觀眾增加，復興美國的電影產業
(B)電影在美國本土製作，將會導致出口減少，使電影減少在海外銷售
(C)使在美國境外製作的電影成本增加，導致市場上的供給量因此減少
(D)政策將使美國境外電影成本增加，進而導致本土製電影的供給增加

4. OpenAI 推出 ChatGPT 生成吉卜力風格圖片的功能，引發 AI 創作與著作權爭議。日本律師指出，雖然單純模仿畫風並不構成侵權，但若 AI 生成的內容再現了吉卜力角色特徵或特定場景，仍可能侵犯著作權。美國某起 AI 訴訟中，地方法官認為 AI 公司未經創作者同意，便將受智慧財產權保護的作品儲存在系統中作為訓練素材，此舉已侵犯創作者的權利。根據上述情境，下列何者最符合該地方法官的立場？
- (A) 因其最終輸出內容，具有獨自的創新性，可主張合理使用
 - (B) 公司蒐集少量資料作為訓練素材，未直接公開，應不侵權
 - (C) 若公司訓練過程涉及尚未授權作品，應負起相關法律責任
 - (D) 是否符合合理使用，理應以生成的作品是否相似作為依據
5. 我國自 2023 年起准允跨國同性伴侶辦理結婚登記，但唯獨兩岸人民同婚無法在臺灣進行結婚登記，因《兩岸人民關係條例》規定，兩岸伴侶需先在中國結婚，再於臺灣登記，並經過面談確保中國配偶不會構成安全或情報威脅，婚姻關係在臺灣才算有效，但由於中國不接受同婚，兩岸同性伴侶根本無法完成前述結婚流程。不過在 2024 年 9 月，內政部發布函釋指出，中國籍與我國同性伴侶得比照兩岸異性婚配規定結婚，兩人先於第三地結婚後，即可在臺灣辦理婚姻登記。前述我國對兩岸同婚政策的推動，其所依據的憲法精神，應使用下列何者進行闡述最適當？
- (A) 國家有義務立法保障宗教信仰自由與傳統婚姻制度
 - (B) 婚姻自由應受保障，國家應排除不合理的差別限制
 - (C) 兩岸婚姻牽涉國安問題，行政機關應保留政策裁量
 - (D) 我國憲法未明定婚姻形式，同性婚姻不屬於基本權
6. 中央銀行公布下修 2025 年經濟成長率為 3.05 %。央行總裁楊金龍指出，2024 年經濟成長優於預期，墊高比較基期，加上美國經貿政策影響等不確定性升高，可能推升全球經濟下行風險，進而影響臺灣經濟成長力道，因此修正經濟成長率預測值。若要正確理解這項消息對人民生活可能造成的影響，下列哪項推論最合理？
- (A) 經濟成長率越低，物價就會立即下跌，民眾消費支出可明顯減少
 - (B) 比較基期墊高表示當年經濟表現更差，民眾將面臨全面失業危機
 - (C) 經濟成長率提高，民眾的薪資水準會與經濟成長幅度等比例增加
 - (D) 國際政經變動可能使我國出口值下降，進而影響民眾就業與所得
7. 據韓媒報導，南韓「惡童俱樂部」前成員李太根的妻子於 2022 年公開丈夫病情，透露他接種新冠疫苗後，僅 3 小時內就出現頭痛和嘔吐等不良反應，之後被送往急診並確診為「蛛網膜下腔出血」，健康情況持續惡化，重病 3 年，最終不敵病魔離世。其妻曾申請疫苗副作用賠償，卻被以「無法證明因果關係」遭駁回。前述個案若發生在我國，受損害之人民應依何種國家責任進行救濟申請？
- (A) 國家賠償責任
 - (B) 損失補償責任
 - (C) 連帶賠償責任
 - (D) 社會補償責任

8. 甲國與乙國原本各自封閉市場，兩國國內玉米價格及數量（元 / 萬公噸）如圖一。近期兩國宣布開放自由貿易，在兩國達成國際貿易後，下列哪一種情境在國際玉米市場上會產生無謂損失？



圖一

- (A) 為避免消費者不利，甲國抑制物價上升，規定玉米不得高於 45 元
 (B) 為維持國內原本價格，甲國進行價格管制規定玉米不得低於 30 元
 (C) 乙國為維護本國消費者利益，規定玉米進口數量上限為 60 萬公噸
 (D) 乙國為保障生產者利益，規定玉米價格必須回到原本市場的 50 元
9. 根據 2024 年臺灣補教業人才平均薪資（表一），顯示平均薪資呈現下降趨勢。部分業者認為，此現象與少子化導致學生數減少有關；亦有分析指出，線上教育平臺與 AI 教學工具普及，使部分家長轉向成本較低的替代方案。綜合上述資料，下列何者最能合理說明補教業薪資下降的可能原因及其對勞動市場供需關係之影響？

表一

每人每月總薪資 (新臺幣元)	2024 年 1 月	47,230 元
	2024 年 2 月	41,316 元
	2024 年 3 月	31,203 元
	2024 年 4 月	31,278 元
	2024 年 5 月	31,370 元
	2024 年 6 月	31,409 元
	2024 年 7 月	31,582 元
	2024 年 8 月	33,002 元
	2024 年 9 月	34,170 元
	2024 年 10 月	31,956 元
	2024 年 11 月	31,982 元

- (A) 因少子化與科技替代效應，補教需求減少，勞動供給過剩導致薪資下跌
 (B) 表中顯示補教業薪資逐月下降，代表補教勞動需求減少但勞動供給增加
 (C) 由於薪資持續下滑，補教業將吸引更多求職者進入，形成超額需求現象
 (D) 薪資不斷下降，政府應立即介入干預修正價格機制，維持原有經濟效率

10. 2023 年 9 月，憲法法庭就 37 名死刑受刑人聲請釋憲一案作出判決。判決指出，若個案之犯罪情節屬於「最嚴重」且審判程序符合流程，則判處死刑並不違憲。然而，如有下列情形之一，則不得判處死刑：
- 一、故意殺人案件於檢警偵查階段無辯護人在場者。
 - 二、第三審審理時未實施強制辯護及言詞辯論者。
 - 三、各級法院合議庭意見未達成一致者。
 - 四、被告於犯罪行為時或審理期間具有精神障礙或其他心智缺陷者。
- 依據上述憲法法庭之判決內容，最能體現下列何項法治原則？
- (A)信賴保護原則
 - (B)禁止不當聯結
 - (C)正當程序原則
 - (D)誠實信用原則
11. 據報導，新北市有 62 所高中職，但 2025 年推動的「高中職參與式預算計畫」卻只有 6 所學校參與，議員認為，學生提案內容多集中於「環境永續」、「環保美化」，主題應該要更多元，呼籲教育局應加強推廣。教育局長回應，為培養學生公共參與精神與民主素養，已編列 200 萬元經費推動參與式預算，預期將有更多具創意與公共價值的學生提案。未來將結合民間不同資源，找社會大學、NGO 組織等方式，持續推廣參與式預算。根據新聞內容，該情況與下列何種公民參與面臨的問題最為相近？
- (A)公民參與程度受限於經費編列不足，能夠真正落實的政策為數不多
 - (B)公民參與若缺乏民間引導機制，將難以提高市民的參與意願及品質
 - (C)參與式預算為由上而下的政策，對居民不具強制力而使參與度降低
 - (D)參與式預算人數過少，所提出的政策將不具代表性且影響其正當性
12. 新聞報導中提到：「警方在一間便利商店內逮捕了 2 名未成年詐欺車手，他們正在進行贓款提領。其中一人年僅 10 歲，另一人 15 歲。兩人誤以為是打工，到超商等待指示提領贓款。這是他們首次犯案，被捕後才驚覺行為嚴重。熟識他們的鄰居指出，兩名少年長期缺乏家長關注，導致孩子誤入歧途。」正在閱讀報導的安安與媽媽討論此事件，請問以下他們的討論內容何者最為正確？
- (A)兩名少年將依《少年事件處理法》移送少年法庭進行審理
 - (B)15 歲少年屬限制責任能力，需負刑事責任，但可減輕刑罰
 - (C)兩名少年以為是打工，提領贓款的行為具備阻卻違法事由
 - (D)少年因缺乏管教而成為詐欺車手，父母須負連帶刑事責任
13. 在《反對選舉》書中有一段話：「公民不僅為政客投票，而且會相互討論，或是與專家探討。……，所有參與者基於獲得的資訊以及自己的論據，就面臨的社會問題提出具體合理的方案。」上述的內容，最符合下列哪一項民主理論之內涵？
- (A)討論中心的審議民主理論
 - (B)投票中心的代議民主理論
 - (C)討論中心的代議民主理論
 - (D)投票中心的審議民主理論

14. 據報載：我國於 2024 年立法院三讀通過《立法院職權行使法》部分條文增修案及《刑法》第 141 條之 1 條文增訂案，行政院認為上開條文窒礙難行，經總統核可，移請立法院覆議，但覆議結果仍維持原決議，交由總統公布。民進黨黨團、行政院及總統、監察院先後聲請釋憲。而後，憲法法庭作出 113 年憲判字第 9 號判決，《立法院職權行使法》部分審查條文及藐視國會罪被宣告違憲。幾位同學看完新聞後討論，請問根據《憲法訴訟法》，哪位同學說法最為適切？
- (A)浪浪：民進黨立院黨團應該至少有 29 人以上連署才能聲請釋憲
 - (B)曉風：本案是因為對於裁判所應適用的法律牴觸憲法而聲請釋憲
 - (C)靜芸：針對立法院的覆議結果，大法官可以依法定程序聲請釋憲
 - (D)蘭芳：人民認為法律規定有違憲之虞，亦可以經連署後聲請釋憲
15. 過去當寵物貓狗因人為因素不幸死亡，飼主可依據法律，向加害方請求損害賠償，然而，現今因為許多民眾愛貓狗如子女，失去貓狗生命對當事人身心影響甚鉅，因此也有部分法院判處加害方須負起損害及精神撫慰金的責任。依上文，飼主得請求精神慰撫金之法律基礎最可能為何？
- (A)飼主基於身分法益的侵害，可要求加害方賠償精神上的損失
 - (B)飼主基於人格法益的侵害，可請求加害方賠償精神上的損失
 - (C)飼主基於人格法益的侵害，可請求加害方賠償財產上的損失
 - (D)飼主基於財產法益的侵害，可要求加害方依市價給付慰撫金
- 16.、17.題為題組
- ◎ 2024 年我國發生一起保母虐死孩童案件，該名兒童因家庭功能缺失，由社會局合作的保母照顧，卻疑似遭到保母虐待死亡。案件後續在國民法官審理時，法扶基金會為涉案保母指派義務律師，部分網友對該名律師展開謾罵與肉搜攻擊，質疑「不該為惡人辯護」。台北律師公會指出，任何人都有權委請律師，律師不該因職責遭羞辱或威脅。律師角色就是協助被告在面對具備豐富資源與國家權力的檢方時，於法庭上取得公平抗辯機會。尤其在現行國民法官制度下，案件審理更需雙方完整呈現事實與量刑因素，讓法院作出準確判斷。
- 事件引起社會高度關注後，立法院於 2025 年通過《刑法》第 286 條修正案，加重照顧者虐待致死兒童之刑責，包括增訂殺害未滿 7 歲之人加重其刑 1 / 2、以凌虐方式殺害未滿 7 歲之人處死刑或無期徒刑等規定。修法通過後，社會上有民眾主張應將此修法「溯及」至該保母案適用，以嚴懲行凶者。
16. 關於部分網友攻擊該名義務律師「不該為惡人辯護」，以下何者最貼近台北律師公會所希望社會理解的主旨？
- (A)國民法官為一般社會大眾，故須具法律專業的律師為當事人辯護
 - (B)律師的角色是在確保被告的受辯護權，不會受到檢方的刻意壓制
 - (C)保障被告受辯護權，能提升法庭審理的公平，實踐司法公正目的
 - (D)只有讓司法制度被正確執行，才能對被告施予嚴厲懲罰落實正義

17. 部分民眾主張應將立法院通過的《刑法》第 286 條修正案規定，適用於文中保母虐童案。依其主張探討，下列論述何者符合我國《刑法》基本原則？
- (A) 為維護正義，修法後可以溯及既往用於 2024 年的保母虐童案
 - (B) 依從舊從輕原則，修法後刑度較重，不得適用於修法前之行為
 - (C) 依罪刑法定原則，行為之處罰須依法律，該案應適用修正條文
 - (D) 舊法欠缺周延，法官得依類推適用原則，對本案採較重的刑責

18.、19.題為題組

- ◎ 2026 年 1 月起，我國最低工資標準調升，月薪自 28,590 元調高至 29,500 元，時薪自 190 元提升至 196 元。部分企業反映人事成本上升，開始評估是否調整人力配置或提高產品售價；但勞工團體則主張，提高基本工資有助於改善勞工生活水準，並提升其消費能力。
- 根據美國經濟政策研究所研究顯示，若最低工資調升至 10.10 美元，因低收入者的所得多半會用於消費，可望帶動整體經濟活絡。然而，觀察我國 2025 年第一季 GDP 的成長結構，其主要成長來源並非消費擴張，民間消費動能仍趨平緩；政府方面增加公共建設支出，加強基礎設施（如油、水、電等系統），並擴大社會福利支出；而在投資支出與進出口方面，受新興科技需求強勁及美國貿易政策影響，企業提前備貨，帶動擴大資本設備購置，同時原物料與設備進口也大幅增加，但淨出口對 GDP 成長貢獻仍達 1.03 %。整體而言，2025 年第一季 GDP 創下近一年來高點，年增率達 5.37 %，主要動能來自企業投資支出與出口的顯著成長。
18. 最低工資的調漲屬於政府價格管制的措施之一，若該政策使勞動市場薪資高於原先均衡薪資之水準，根據上述題文內容並以經濟學角度進行分析，下列敘述何者最為適切？
- (A) 勞動市場中勞動供給因人事成本上升而導致供給減少
 - (B) 政府介入勞動市場後減少無謂損失經濟效率隨之提高
 - (C) 最低工資雖保障勞工，但可能導致部分勞工失業問題
 - (D) 勞動市場中勞動需求量將隨最低工資調漲而逐漸增加
19. 根據題文所述，關於我國 2025 年第一季國內生產毛額的表現，與下列何者最為相符？
- (A) 最低工資調升可能提升部分勞工消費能力，但短期內對 GDP 成長貢獻有限
 - (B) 即使進口大量增加，但因非國內生產，對我國 GDP 衡量不會造成任何影響
 - (C) 政府投入基礎建設與社會福利支出，皆會提高 GDP 中的政府消費支出數值
 - (D) 民間企業因應時局擴大建造及工廠設備，有利提升 GDP 中民間消費支出項

20.、21.題為題組

◎ 以下為某年度立法院的總預算案評估報告部分節錄：

「自 2021 年以來，疫情影響我國就業市場，失業率及高通膨趨升下，經濟成長率不斷下修，國民可支配所得下降，民眾痛苦感提高。對此，行政院『穩定物價小組』以供給面措施，因應能源及食物價格波動，對整體物價穩定雖有幫助，惟國際供應鏈瓶頸問題、地緣政治衝突風險及極端天候問題，均為影響未來通膨走勢之主要不確定因素。為抑制通膨，國際間多以升息因應，惟此舉將恐導致經濟成長停滯或衰退，宜留意後續造成停滯性通膨風險及其影響。」

20. 根據題文，下列關於「升息」抑制通貨膨脹的原理說明，何者最為正確？

- (A) 升息提高存款利率，鼓勵民眾將資金存入銀行，減少貨幣流通量，降低物價
- (B) 升息增加企業借貸成本，企業減少生產，商品供給減少，有助抑制物價上漲
- (C) 升息提高存款利率降低了廠商借貸成本，使得廠商增購機器設備等固定投資
- (D) 升息是央行的寬鬆貨幣政策，使銀行更願意提供貸款給廠商，可以提振景氣

21. 上述題文中所提及的失業問題與其因果關係，下列敘述何者最為正確？

- (A) 若升息抑制通膨導致經濟衰退，會使勞動需求量下降，薪資也會下降
- (B) 若失業率升高，表示非勞動人口增加，勞動參與率就會開始跟著下降
- (C) 當時的失業屬於結構性失業，企業因人力成本過高進而減少僱用勞工
- (D) 疫情衝擊導致經濟成長放緩，引發勞動的需求萎縮，屬於循環性失業

22.、23.題為題組

◎ 一對經營銀樓的夫妻，婚後未約定夫妻財產制，婚姻期間，由妻子負擔家務與照顧子女的主要責任，丈夫另投資海外不動產。之後二人感情不睦離婚，妻子請求分配婚後財產。第一審法院考量妻子負債約 4 千萬元、丈夫資產逾 2 億元，僅判給妻子 5 百萬元。但第二審法院認為妻子對家庭有實質貢獻，改判丈夫應給妻子約 1 億元。此判決引發部分民眾表達看法：

甲：「財產登記在誰名下就應是誰的，離婚還要分配偶，太不公平了！」

乙：「妻子並無經濟收入且負債太多，離婚時不應該請求財產分配」

丙：「家務和育兒長期被視為『沒收入就沒價值』，但這些家務勞動難道不值得被看見嗎？」

22. 針對此夫妻的婚後財產分配爭議，下列敘述何者最能正確反映第二審法院裁判的法律依據與原則？

- (A) 法定財產制之財產為夫妻各自所有，配偶並無分配請求權
- (B) 法定財產制計算婚後剩餘財產，並以差額之一半進行分配
- (C) 夫妻財產平均分配較具效率，本就無須考量個別貢獻差異
- (D) 財產登記足以代表所有權，依所有權絕對原則可排除干涉

23. 關於上述三位民眾發言，請問下列何者說法最能對應我國《民法》法定財產制的規範精神？
- (A)甲強調財產應完全依登記名義歸屬，避免侵犯個人財產權益
 - (B)乙認為家庭照顧屬個人選擇，不應成為法律分配請求的依據
 - (C)丙主張家務與育兒屬於無酬的再生產勞動，應獲得法律保障
 - (D)三人看法皆肯認婚姻關係中夫妻共同貢獻與公平分配的精神

24.、25.題為題組

◎ 外送平臺 Uber Eats 曾於 2024 年計畫併購 foodpanda，若兩者合併，市場占有率將超過 90 %。公平交易委員會（以下簡稱「公平會」）審查後認為，Uber Eats 與 foodpanda 原為主要競爭對手，結合後將大幅減少市場競爭，且新業者進入門檻高，難以形成有效制衡，恐導致 Uber Eats 提高對餐飲業者的抽成比例。因此，公平會決議否決該結合案。

反觀東港往返小琉球航線的交通船業者，共有 6 家向公平會申請聯合排班、共同售票等聯合行為。公平會審查後予以許可，理由是小琉球對外交通全賴交通船，無其他替代運具，公平會認為該聯合行為可提升整體交通效益，對公共利益具有正面影響。此外，市場仍有其他業者可供選擇，競爭尚具一定程度，遂同意准許。

24. 根據報導文章內容，公平會對 UberEats 與 foodpanda 結合案與小琉球交通船聯合行為採取不同態度，判斷的主要原因為何？
- (A)聯合行為中僅涉及聯合漲價的行為才會被公平會決議否決
 - (B)結合案被否決之主因為可能導致消費者生活成本大幅提高
 - (C)輪船業者之聯合行為有助提升公益且市場仍具一定競爭性
 - (D)若結合案並未直接導致市價上漲則公平會應核准通過該案
25. 根據題文，為避免企業結合行為使市場喪失競爭與定價能力，公平會採取的措施手段，依政策邏輯，最接近下列何者？
- (A)日本為減少觀光過度帶來的公害問題，擬調漲針對外國旅客課徵的離境稅
 - (B)透過建立智慧財產權制度，保障創作者成果，同時能鼓勵創作者持續創作
 - (C)台電的電價與收費費率，必須依照《電業法》規定送主管機關審議及核定
 - (D)透過人工智慧系統的輔助，能降低車輛取得「合格排煙檢測」的交易成本

26、27.題為題組

- ◎ 為達成 2050 年淨零排放目標，自 2026 年起，我國環境部公告對企業徵收碳費，呼籲企業應進行減碳與產業轉型，另預計 2040 至 2045 年間逐步淘汰高碳產業，恐造成約 2.5 萬人失業，受影響人數高達 235 萬。對此，勞工團體於 2025 年舉行的「五一勞工遊行」中除了主張反霸凌、加薪、縮短工時外，也呼籲確保淨零排放目標達成的「公正轉型」應納入勞工參與，保障其權益與社會公平。其實，行政院國家發展委員會（後簡稱「國發會」）也強調在減碳趨勢中，企業應「公正轉型」，落實多元參與、透明決策與尊嚴勞動等民主治理原則。然而，有學者指出，目前臺灣工會組織率僅約 7 ~ 8 %，勞動相關法規對工會籌組與團體協商設有過高限制，制度性參與能力有限，因此建議修法。
26. 根據題文中國發會的說明，政府在推動公正轉型時應採取何種做法以體現民主治理原則？
- (A)由中央統籌決策，採取自上而下模式以加速推動轉型目標的落實
 - (B)召開公聽會、協商平臺等參與機制，以納入工會、民間團體意見
 - (C)提高技術專家主導比例，排除群眾意見以避免干擾政策執行效率
 - (D)由行政機關召開跨部會會議，並研擬轉型方案後提交立法院通過
27. 依上文所述，為促進公正轉型過程中勞工權益的保障，下列何者最有助於強化其集體談判與政策參與能力？
- (A)積極鼓勵勞工採用個別化勞動契約，落實契約自由且提升就業彈性
 - (B)鼓勵退休勞工重返職場，以提升勞動參與率並能填補轉型所需人力
 - (C)修正《勞資爭議處理法》納入罷工權保障，使勞工能爭取集體權益
 - (D)下修《工會法》籌組工會的門檻，強化勞工團結權以落實團體協商

28、29.題為題組

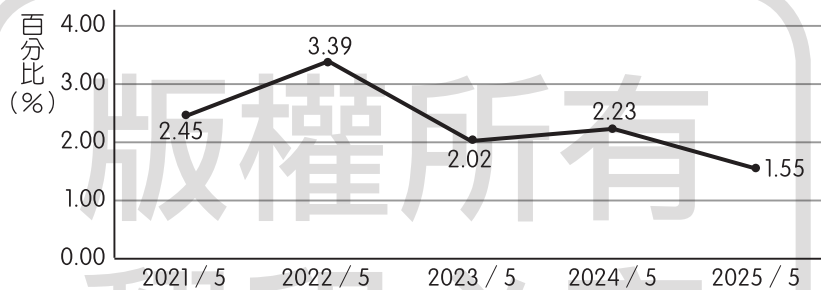
- ◎ 某鄉鎮有項占地 82 公頃的五期開發案，因地點位於重要溪流的源頭，將對該鄉鎮的環境、生活、地方自治帶來巨大影響。在廠商召開說明會時，有居民希望產業可以發展支持開發，也有在地青年與環保團體認為廠商將開發案切割成數個面積較小的開發單位，分階段向政府申請開發許可，以規避必須進行環境評估審查的法律要求，更痛批縣政府未有人出席說明會，他們主張重新檢討審查流程。青年與環保團體透過踏溪走讀行動、街頭宣講、召開記者會，持續動員居民關注此議題，並且提出以下訴求：
- 一、縣府應正式派員出席公聽會。
 - 二、就開發案相關疑點進行公開說明，並提供書面資料。
 - 三、建立跨局處協調機制，展開正式對話並檢討審查流程。
 - 四、政府應以透明溝通取代沉默決策，展現誠意與負責任的治理態度。
28. 關於此案中人民與政府及廠商之間的關係描述，下列分析何者與題文內容最為相符？
- (A)本開發案是廠商與居民的利益衝突，縣政府應秉持中立角色，不宜介入
 - (B)考量抗爭運動將會帶來極高的社會成本，反對居民應採衝突較少的方式
 - (C)當地青年與環保團體雖與部分居民意見分歧，但其行動仍屬於社會運動
 - (D)該說明會是政府部門推動的政策宣導，目的在於提高社會大眾環保意識

29. 在本開發案爭議中，環保團體的訴求跟以下哪個民主治理的理念最相近？
- (A)公平合理的行政程序是實現實質正義的前提，人民可透過行政救濟維護權益
(B)中央權力應該下放，讓地方政府可以更有權力解決地方問題，創造地方福祉
(C)行政過程應具備透明性、回應性及代表性，才能落實民主政治中的課責機制
(D)地方行政首長應該定期到議會進行施政報告，並且接受民意代表的監督質詢

二、多選題（占 8 分）

說明：第 30. 題至第 33. 題，每題 2 分。

30. 以下為我國主計處於 2025 年 5 月記者會公布的物價指數資料摘要：
圖二為（各年度 5 月）消費者物價指數年增率，2025 年 5 月 CPI 較去年同月漲 1.55 %：肉類、外食費等食物類價格持續上漲，水果價格仍較去年為高，加上房租、掛號費、學習費、汽車保養及修理等費用調升，惟蔬菜、蛋類、油料費、運輸費、通訊費及成衣等價格下跌，抵銷部分漲幅。根據上述的資料，判斷下列哪些分析合理？



圖二

- (A) 5 月 CPI 上漲 1.55 % 是指跟基期（2020 年）5 月比起來，物價上漲了 1.55 %
(B) 2023 年 5 月 CPI 年增率下跌，表示跟 2022 年 5 月相較之下，生活成本下降
(C) 各年度 5 月的 CPI 年增率皆呈現上漲，表示連續 5 年的平均生活成本都上升
(D) 2021 ~ 2025 年的 CPI 消費者物價指數年增率皆上漲，顯示有惡性通膨的危險
(E) 2025 年 5 月 CPI 年增率為 5 年中最小，但 CPI 仍高於 2024 年，顯示物價上漲
31. 喪偶的陳伯伯年事已高，生活起居多年來仰賴外籍看護瑪莉細心照顧。其三名子女則長年旅居海外，甚少返家探視，僅有陳伯伯的弟弟常來探視。陳伯伯在過世前親筆立下遺囑，將名下價值新臺幣 1,200 萬元的不動產與現金 300 萬元，全數贈予瑪莉。陳伯伯去世後，三名子女及其弟弟對遺囑內容不滿，遂向法院提起民事訴訟。倘若該自書遺囑經確認有效，下列敘述哪些符合我國《民法》相關規定？
- (A) 瑪莉非血親繼承人，依法不得受遺贈，因此無法取得陳伯伯的遺產
(B) 子女雖未獲遺贈，可依據《民法》主張取得每人 250 萬元的特留分
(C) 基於私法自治原則，陳伯伯遺囑應被尊重，子女不得主張任何分配
(D) 因遺囑確認具有效力，所以其三名子女只可請求剩餘財產差額分配
(E) 陳伯伯的弟弟並非第一順位繼承人，子女仍健在時無法主張繼承權

32. 我國為避免醫療商業化與醫療機構收費標準差距過大，曾由衛福部訂定醫院診所掛號費上限為新臺幣 150 元，以維護就醫可近性與公平性。然而因各縣市醫療水準落差大，中央難以訂定各地適用的統一標準，且全國統一的單一掛號費價格範圍已實施將近 15 年，許多醫療機構反應已不符合現況，不利反映醫療成本與提供差異化服務。因此 2024 年起，衛福部取消掛號費上限，讓收費價格回歸市場機制，期望促進醫療分級、提高服務多元性。從市場機能與經濟效率的角度思考，下列哪些政策措施對社會經濟福祉造成的影響，與前述畫底線政策相同？
- (A) 為避免夾娃娃變成賭博，規定須標示保證取物金額，且不得超過新臺幣 990 元
 - (B) 美國紐約針對尖峰時段下的特定區域開徵塞車費，以解決長期交通壅塞的問題
 - (C) 我國經濟部推出家戶屋頂太陽能補助計畫，增加綠電供給以達成節能減碳目標
 - (D) 我國規定食品須標示產地與製造資訊，用以減少資訊不對稱造成消費者的誤判
 - (E) 為降低糖尿病患者醫療負擔，美國國會通過胰島素價格限制在每月 35 美元以內
33. 立法院於 2024 年修正通過《姓名條例》，增訂臺灣原住民族依其文化慣俗登記傳統姓名者，得申請改名，並得在身分文件上單列原住民族文字。同年 9 月，原住民作家 Temu Suyen 為新生女兒登記族名「Nyuwa」時，遭戶政人員以「該名稱不在族名資料庫中」為由拒絕受理，並將諮詢族語老師判定是否「合格」後再決定是否准予登記。此舉引發社會對於族群文化、命名自主權與行政程序適法性之討論，後經原民會與戶政單位討論，確認名譜僅供參考，可自由取名，戶政方已協助完成登記。下列哪些觀點較能回應上述情境所涉及的法律與文化議題？
- (A) 戶政機關應該尊重多元文化，保障原住民族依自身傳統行使命名權
 - (B) 公民權利保障應該以官方的資料庫為依據，避免變通造成行政混亂
 - (C) 《姓名條例》修法後，行政機關不得以資料庫限制登記族名之權利
 - (D) 政府應該依憲法規定，維護族群文化多樣性與人民人格尊嚴之實踐
 - (E) 原住民族應該遵循政府公布資料表，以統一族名登記與書寫之標準

第貳部分、混合題或非選擇題（占 34 分）

說明：本部分共有 4 題組，單選題每題 2 分，非選擇題配分標於題末。限在答題卷標示題號的作答區內作答。

選擇題與「非選擇題作圖部分」使用 2B 鉛筆作答，更正時以橡皮擦擦拭，切勿使用修正帶（液）。非選擇題請由左而右橫式書寫，並依題目指示作答。

34.、35.題為題組

- ◎ 2022 年，憲法法庭針對西拉雅族原住民身分爭議，作出 111 年憲判字第 17 號判決。大法官認為，《憲法增修條文》所保障的「原住民族」，不應限於政府公告的 16 族，而應涵蓋所有屬於臺灣南島語系，民族語言、傳統習俗、文化特徵尚存，並保有族群認同與可資佐證歷史紀錄的族群。判決中也指出，國家除應避免制度設計對原住民族造成不利益，亦應採取積極措施，促進其在歷史、文化與制度上的平等。其他臺灣原住民族既受憲法保障，立法者應充分考量各原住民族及其成員之歷史發展脈絡及現況，並斟酌國家資源配置，另以法律定之。
34. 根據上文，關於原住民族之身分保障，何者最符合憲法法庭的見解？
- (A)原住民族身分認定應以族群語言使用率及文化實踐頻率為標準，方能避免資源分配失衡
(B)原住民族應具體展現文化持續性，並經由政府審核程序取得法定地位，才可以享有保障
(C)即使未列官方名冊，凡具文化特徵、自我認同與歷史脈絡者，仍屬憲法保障之原住民族
(D)憲法保障僅及於現行法定原住民族，尚未正名者應由行政與立法機關另行決定認定標準
35. 請問何者符合上述判決畫底線處說明的正義類型？請於答題卷左欄勾選一項（2 分，左欄勾選錯誤或未勾選，本題不予計分），並於右欄闡述這個正義類型的內涵（3 分，30 字內）。

正義類型	正義類型的內涵
<input type="checkbox"/> 匡正正義 <input type="checkbox"/> 分配正義 <input type="checkbox"/> 程序正義	

36.~38.題為題組

- ◎ 一名擁有臺灣戶籍，但自 2002 年起即長期旅居國外的李小姐，因認為自己僅在春節期間返臺探親並未就醫，但仍被要求繳交健保費，對此不服提起行政訴訟，並在敗訴定讞後聲請釋憲。憲法法庭 2022 年時作出判決，認定《全民健康保險法施行細則》中關於健保停復保條文——「預定出國 6 個月以上者，應自返國之日復保。但出國期間未滿 6 個月即提前返國者，應自返國之日註銷停保，並補繳保險費」，即就全民健康保險停保及復保等權利義務關係重要事項直接規範，未有法律明確授權，違反【甲原則】，因此宣判違憲，並要求衛福部須於 2 年內修法，否則該規定將失效。

衛福部在失效前預告「全民健康保險法施行細則」部分條文修正草案，2 週內若無異議，於 2024 年 12 月 23 日起廢止停復保制度。未來出國或失蹤超過 6 個月以上的國人，將無法再藉由申請健保停保的方式，免繳該段期間的健保費用。新法規定，只要設籍於臺灣的民眾，均須持續繳納健保費，才能享有全民健保醫療服務權利。健保署分析，此次修法後受影響者大多為旅外僑胞與留學生，預估約為 21 萬人；而刪除健保停復保制度，可讓每年健保費收入增加約新臺幣 23 億元。

36. 請問文中【甲原則】為哪一項行政法的原理原則？請於答題卷左欄勾選一項（2 分），並於右欄摘述題文佐證（3 分，30 字內，左欄勾選錯誤或未勾選，本題不予計分）。

原則	摘述題文佐證
<input type="checkbox"/> 平等原則	
<input type="checkbox"/> 信賴保護原則	
<input type="checkbox"/> 法律保留原則	
<input type="checkbox"/> 法律優越原則	

37. 衛福部在制度失效前預告草案、設置 2 週預告期，其目的最符合下列哪一項原則？

- (A) 平等原則
- (B) 公開原則
- (C) 公正原則
- (D) 比例原則

38. 關於衛福部廢止健保停復保制度一事，下列說法何者最為正確？

- (A) 廢止健保停復保制度的做法可以改變國人就醫習慣，避免社會大眾浪費醫療資源
- (B) 廢止健保停復保制度，須經立法院三讀通過《全民健康保險法施行細則》修正案
- (C) 出國的國人需繳交健保保費，健保可增加 23 億收入，此做法符合匡正正義之精神
- (D) 該做法符合健保強制性社會保險精神，讓國人都能在公平基礎下分擔風險與保費

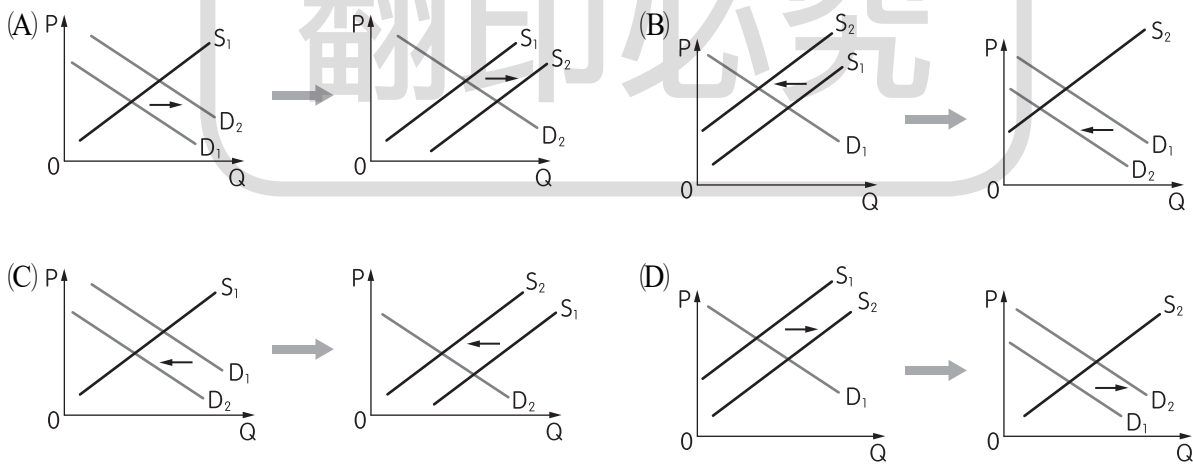
39、40.題為題組

◎ 泡泡瑪特的公仔 Labubu，因有許多明星喜歡，加上醜萌可愛造型，成為許多年輕人必買收藏品。Labubu 通常以「盲盒」方式販售，購買時無法知道會拿到哪一款公仔，增添驚喜感，也讓大家想一盒接一盒地買，形成所謂的盲盒經濟。隨著愈多人搶購盲盒，盲盒交易市場價格也一路飆漲。同時，為了保護這些公仔，許多民眾亦會購入透明展示小包（俗稱「娃包」，如圖三），並將公仔放入。但後來 Labubu 盲盒第三代系列展開全球線上預購同時，也同步向實體通路釋出大批貨量，這波突如其來的大規模補貨行動，導致 Labubu 盲盒市場價格應聲下挫，整套 6 入從原本的 6,200 至 11,000 元跌至 2,700 至 3,300 元不等。



圖三

39. 題文中關於盲盒價格的漲、跌變動，來自於盲盒市場中供、需產生變化所致，根據經濟學的供需理論，下列哪個選項最能對應與說明題文盲盒價格漲、跌變化之情形？



40. 根據題文所述，假設消費者行為僅受市場價格影響，在 Labubu 盲盒因大規模補貨而導致市場價格變動時，娃包市場的供需情形將會如何變動？請於答題卷左欄勾選一項（3 分），並於右欄簡要說明判斷理由（3 分，30 字內，左欄勾選錯誤或未勾選，本題不予計分）。

供需市場變動情形	判斷理由
<input type="checkbox"/> 需求增加 <input type="checkbox"/> 需求減少 <input type="checkbox"/> 需求量增加 <input type="checkbox"/> 需求量減少	

41.~43.題為題組

- ◎ 某國於 2020 年舉行國會議員選舉結果，由總理領導的甲黨在全國僅獲得 42 % 的總得票率，卻在全國 600 個選區中，贏得 336 席（占總席次的 56 %），超過總席次 600 席一半以上，得以單獨過半組閣，然而，社會大眾對選舉制度所造成政治結果產生質疑。為回應民意關切，政府推動選制改革，並於 2024 年正式改採單一選區兩票制（並立制）舉行國會大選。改革後，國會總席次維持 600 席，其中 350 席由各地選區選出，250 席依政黨票得票率分配，僅限得票率達 5 % 以上之政黨參與分配，2024 年大選結果如表二：

表二

政黨名稱	政黨得票率	區域席次
甲黨	40 %	175 席
乙黨	30 %	105 席
丙黨	15 %	35 席
丁黨	10 %	25 席
戊黨	3 %	6 席
己黨	2 %	4 席

41. 依據上文資料，判斷該國的改革前的選舉制度最有可能為下列哪一種制度？請於答題卷左欄勾選一項（3 分），並依據資料於右欄說明判斷理由（3 分，40 字內，左欄勾選錯誤或未勾選，本題不予計分）。

選舉制度	判斷理由
<input type="checkbox"/> 比例代表制 <input type="checkbox"/> 混合投票制 <input type="checkbox"/> 複數選區相對多數決 <input type="checkbox"/> 單一選區相對多數決	

42. 依據上文敘述及附表 2024 年選舉結果所示，下列敘述何者正確？
(A)甲黨合計取得 280 席，席次並未過半，需與他黨協商籌組聯合政府
(B)乙黨於區域及不分區所得到的席次相近，顯示其支持結構具穩定性
(C)未達門檻者仍可取得區域席次，表示選制充分保障小黨的政治參與
(D)席次分配可精準反映政黨得票率，避免選票浪費且能充分反映民意
43. 依據題文，關於該國的政府體制，下列何者最可能為其制度上的缺點？
(A)行政權與立法權分立，在分立政府下政策易受國會否決而形成政治僵局
(B)國家元首擁有實質權力，即使施政不力也無法透過不信任投票使其下臺
(C)內閣需取得國會多數支持，聯合政府下易致政局動盪不穩且政策不連貫
(D)若元首與總理屬不同政黨，形成分立政府，易互相牽制，降低行政效率